



INSTITUCION EDUCATIVA LICEO LOS ÁNGELES  
PLAN MEJORAMIENTO  
TERCER PERIODO  
MATEMATICAS  
KINDER

Nombre \_\_\_\_\_ Docente: Maryuri Gamboa  
Fecha \_\_\_\_\_ Grado: Kinder

CAMPO DE FORMACIÓN  
PENSAMIENTO MATEMÁTICO







- Su finalidad es que los niños usen el conteo; reconozcan la importancia y utilidad de los números en la vida cotidiana, y se inicien en la resolución de problemas y en la aplicación de estrategias (agregar, reunir, quitar, igualar y comparar colecciones).

1. Completa la secuencia numérica hasta la familia del 30.



1				
	7			10
11		13		
		18	19	
	22	23		
26				30

2. Dictado familia del 10 y 20.



3. Cuenta y colorea la cantidad que indica cada moneda.

																																																														
<table border="1"><tr><td></td><td></td><td></td><td></td><td></td></tr><tr><td></td><td></td><td></td><td></td><td></td></tr><tr><td></td><td></td><td></td><td></td><td></td></tr><tr><td></td><td></td><td></td><td></td><td></td></tr></table>																					<table border="1"><tr><td></td><td></td><td></td><td></td><td></td></tr><tr><td></td><td></td><td></td><td></td><td></td></tr><tr><td></td><td></td><td></td><td></td><td></td></tr><tr><td></td><td></td><td></td><td></td><td></td></tr></table>																					<table border="1"><tr><td></td><td></td><td></td><td></td><td></td></tr><tr><td></td><td></td><td></td><td></td><td></td></tr><tr><td></td><td></td><td></td><td></td><td></td></tr><tr><td></td><td></td><td></td><td></td><td></td></tr></table>																				
																																																														
<table border="1"><tr><td></td><td></td><td></td><td></td><td></td></tr><tr><td></td><td></td><td></td><td></td><td></td></tr><tr><td></td><td></td><td></td><td></td><td></td></tr><tr><td></td><td></td><td></td><td></td><td></td></tr></table>																					<table border="1"><tr><td></td><td></td><td></td><td></td><td></td></tr><tr><td></td><td></td><td></td><td></td><td></td></tr><tr><td></td><td></td><td></td><td></td><td></td></tr><tr><td></td><td></td><td></td><td></td><td></td></tr></table>																					<table border="1"><tr><td></td><td></td><td></td><td></td><td></td></tr><tr><td></td><td></td><td></td><td></td><td></td></tr><tr><td></td><td></td><td></td><td></td><td></td></tr><tr><td></td><td></td><td></td><td></td><td></td></tr></table>																				

4. Cuenta y tacha con una X la respuesta correcta.

			
21	19	18	17
			
27	25	20	21

5. Representa un conjunto lleno, vacío, unitario.



6. Escribe la familia del 20.

---

